

# Espace et géométrie :

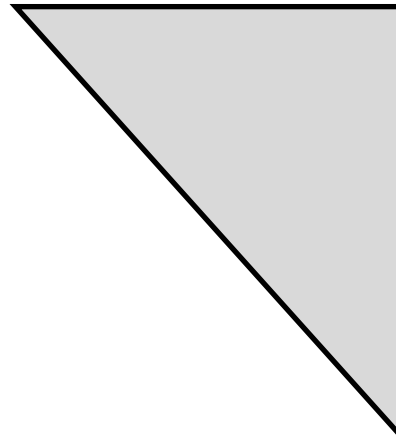
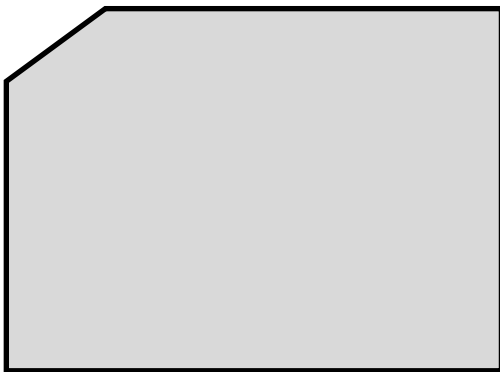
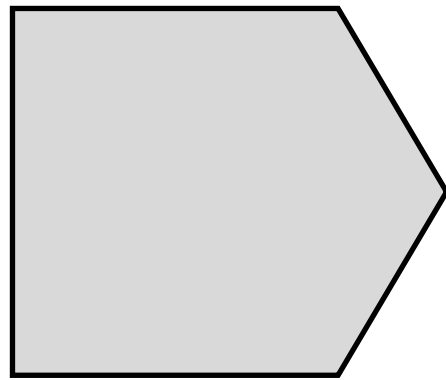
## Les angles droits

Prénom : .....

Compétences :

- Repérer les angles droits
- Tracer un angle droit

1/ Trouve tous les angles droits (il y en a 10) :



2/ Trace un trait pour obtenir un angle droit :

