

Grandeurs et mesures : L'heure

Prénom :

Compétences :

- Lire l'heure


1/ Donne l'heure pour chaque horloge :



Matin :
Soir :



Matin :
Après-midi :



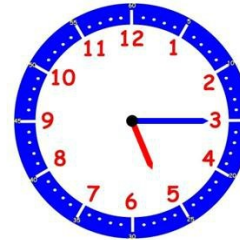
Matin :
Soir :



- 20 h 15 min
- 20 h 45 min
- 8 h moins le quart
- 9 h moins le quart

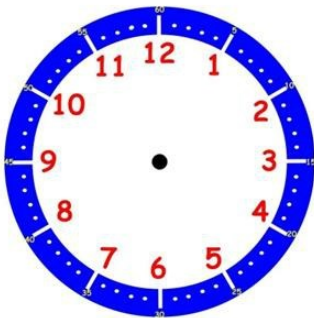


- 23 h 15 min
- 15 h
- 11 h moins le quart
- 11 h et quart

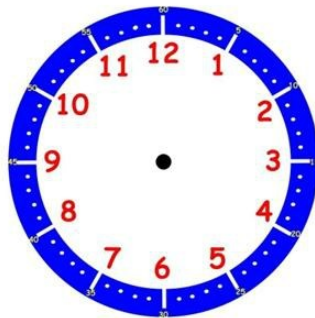


- 5 h 3 min
- 17 h 15 min
- 5 h et quart
- 5 h moins le quart

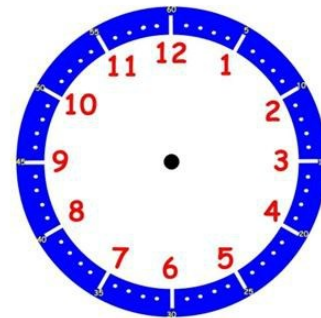
2/ Dessine les aiguilles (en rouge les heures, en bleu les minutes) :



18 h 15 min



4 h moins le quart



midi et demie

Grandeurs et mesures : L'heure

Évaluation (suite)

Prénom :

3/ Donne l'heure pour chaque horloge :



16 h 45 min

15 h 45 min

17 h 15 min



18 h 32min

19 h 32 min

7 h 32 min



13 h 10 min

14 h 20 min

15 h 20 min



12 h 30 min

13 h 20 min

1 h 20 min



16 h 35 min

15 h 40 min

3 h 40 min



18 h 45 min

18 h 55 min

7 h 55 min