

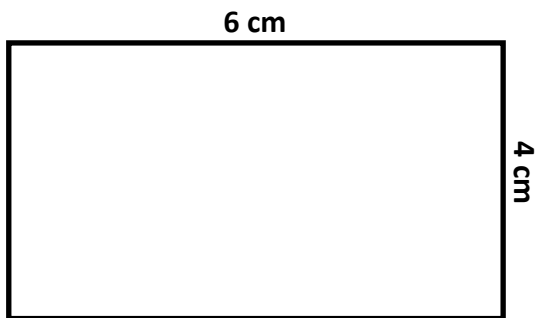
Espace et Géométrie : Le cercle

Prénom :

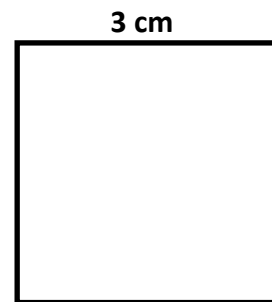
Compétences :

- Reconnaître le périmètre d'une figure
- Calculer le périmètre d'un polygone

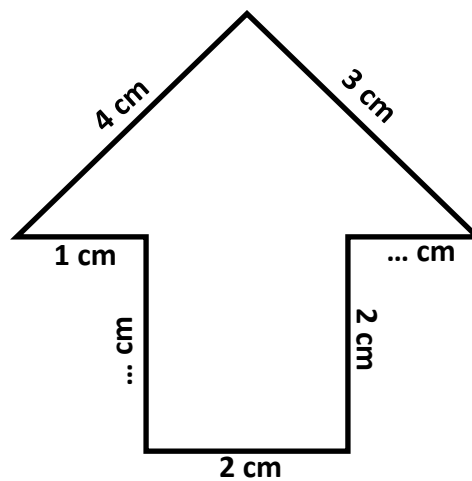
1/ Calcule le périmètre de ces polygones :



P=.....



P=.....



P=.....

2/ Combien mesurent les côtés d'un carré dont le périmètre est de 16 cm ?